

离散数学概论

习题课二 集合论

课程QQ号: **689423416**

金耀 数字媒体技术系

fool1025@163.com

13857104418

集合的运算

判断下列命题是否为真

(1) $\emptyset \subseteq \emptyset$

(2) $\emptyset \in \emptyset$

(3) $\emptyset \subseteq \{\emptyset\}$

(4) $\emptyset \in \{\emptyset\}$

(5) $\{a, b\} \subseteq \{a, b, c, \{a, b, c\}\}$

(6) $\{a, b\} \in \{a, b, c, \{a, b\}\}$

(7) $\{a, b\} \subseteq \{a, b, \{\{a, b\}\}\}$

(8) $\{a, b\} \in \{a, b, \{\{a, b\}\}\}$

解 (1)、(3)、(4)、(5)、(6)、(7)为真, 其余为假.

集合的运算

设A,B为集合，试确定下列各式成立的充分必要条件：

❖ (1) $A - B = B$

❖ (2) $A - B = B - A$

❖ (3) $A \cap B = A \cup B$

❖ (4) $A \oplus B = A$

(1) $A = B = \Phi$

(2) $A = B$

(3) $A = B$

(4) $B = \Phi$

集合的证明

证明 $A \cup B = A \cup C \wedge A \cap B = A \cap C \Rightarrow B = C$

解题思路

- 分析命题：含有3个命题：

$$A \cup B = A \cup C, \quad A \cap B = A \cap C, \quad B = C$$

①

②

③

- 证明要求

前提：命题①和②

结论：命题③

- 证明方法：

恒等式代入、反证法

利用已知等式通过运算得到新的等式

集合的证明(解答)

证明 $A \cup B = A \cup C \wedge A \cap B = A \cap C \Rightarrow B = C$

方法一：恒等代入法

$$\begin{aligned} B &= B \cap (A \cup B) \\ &= B \cap (A \cup C) = (B \cap A) \cup (B \cap C) \\ &= (A \cap C) \cup (B \cap C) = (A \cup B) \cap C \\ &= (A \cup C) \cap C = C \end{aligned}$$

方法二：反证法.

假设 $B \neq C$ ，则存在 x ($x \in B$ 且 $x \notin C$)，或存在 x ($x \in C$ 且 $x \notin B$)。

不妨设为前者.

若 x 属于 A ，则 x 属于 $A \cap B$ 但 x 不属于 $A \cap C$ ，与已知矛盾；

若 x 不属于 A ，则 x 属于 $A \cup B$ 但 x 不属于 $A \cup C$ ，也与已知矛盾.

集合的证明(解答)

证明 $A \cup B = A \cup C \wedge A \cap B = A \cap C \Rightarrow B = C$

方法三：利用已知等式通过运算得到新的等式。
由已知等式①和②可以得到

$$(A \cup B) - (A \cap B) = (A \cup C) - (A \cap C)$$

即

$$A \oplus B = A \oplus C$$

从而有

$$A \oplus (A \oplus B) = A \oplus (A \oplus C)$$

根据结合律得

$$(A \oplus A) \oplus B = (A \oplus A) \oplus C$$

由于 $A \oplus A = \emptyset$, 化简上式得 $B = C$.

集合的计数

对**60**个学生参加课外活动的情况进行调查。结果发现，**25**人参加物理小组，**26**人参加化学小组，**26**人参加生物小组。**9**人既参加物理小组又参加生物小组，**11**人既参加物理小组又参加化学小组，**8**人既参加化学小组又参加生物小组。**8**人什么小组也没参加，回答下列各问题：

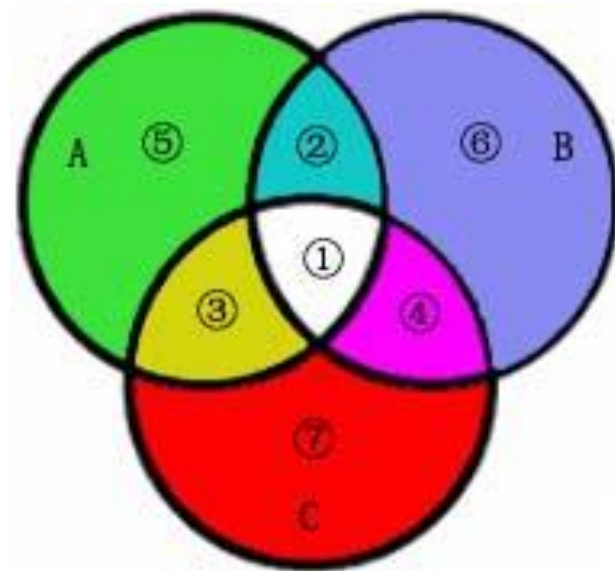
- ❖ **(1)** 有多少人参加了**3**个小组？
- ❖ **(2)** 只参加一个小组的有多少人？

解答

设 $A=\{x|x\text{参加物理小组}\}, |A|=25$

$B=\{x|x\text{参加化学小组}\}, |B|=26$

$C=\{x|x\text{参加生物小组}\}, |C|=26$



- ❖ (1) 有多少人参加了3个小组? 3人
- ❖ (2) 只参加一个小组的有多少人? 30人

关系的运算

设 $A=\{1,2,3\}$, $R=\{<x,y>|x, y \in A \text{ 且 } x+3y<8\}$, $S=\{<2,3>, <4,2>\}$,
求下列各式:

- ❖ (1) R 的集合表达式;
- ❖ (2) R^{-1} , $\sim R$;
- ❖ (3) $\text{dom}R$, $\text{ran}R$, $\text{fld}R$;
- ❖ (4) $S \circ R$, R^3 ;
- ❖ (5) $r(R)$, $s(R)$, $t(R)$ 。

解答

(1) $R = \{ \langle 1, 1 \rangle, \langle 1, 2 \rangle, \langle 2, 1 \rangle, \langle 3, 1 \rangle \};$

(2) $R^{-1} = \{ \langle 1, 1 \rangle, \langle 2, 1 \rangle, \langle 1, 2 \rangle, \langle 1, 3 \rangle \},$

$$\sim R = \{ \langle 1, 3 \rangle, \langle 2, 2 \rangle, \langle 2, 3 \rangle, \langle 3, 2 \rangle, \langle 3, 3 \rangle \};$$

(3) $\text{dom} R = \{1, 2, 3\}, \text{ran} R = \{1, 2\}, \text{fld} R = \{1, 2, 3\};$

(4) $S \circ R = \{ \langle 1, 3 \rangle \},$

$$R^3 = \{ \langle 1, 1 \rangle, \langle 1, 2 \rangle, \langle 2, 1 \rangle, \langle 2, 2 \rangle, \langle 3, 1 \rangle, \langle 3, 3 \rangle \};$$

(5) $r(R) = \{ \langle 1, 1 \rangle, \langle 1, 2 \rangle, \langle 2, 1 \rangle, \langle 2, 2 \rangle, \langle 3, 1 \rangle, \langle 3, 3 \rangle \},$

$$s(R) = \{ \langle 1, 1 \rangle, \langle 1, 2 \rangle, \langle 2, 1 \rangle, \langle 3, 1 \rangle, \langle 1, 3 \rangle \},$$

$$t(R) = \{ \langle 1, 1 \rangle, \langle 1, 2 \rangle, \langle 2, 1 \rangle, \langle 3, 1 \rangle, \langle 2, 2 \rangle, \langle 3, 2 \rangle \}.$$

关系的性质

说明下列关系是否是自反的、对称的、传递的或反对称的。

- ❖ (1) 在 $\{1,2,3,4,5\}$ 上定义的关系, $\{ \langle a, b \rangle \mid a-b \text{ 是偶数} \}$
- ❖ (2) 在 $\{1,2,3,4,5\}$ 上定义的关系, $\{ \langle a, b \rangle \mid a+b \text{ 是偶数} \}$

(1) 自反的、对称的、传递的, 但不是反对称的;

(2) 自反的、对称的、传递的, 但不是反对称的;

等价关系及分类

设 R 是整数集合 \mathbb{Z} 上的模 n 等价关系, 即 $x \sim y$ 当且仅当 $x \equiv y \pmod{n}$, 试给出由 R 确定的 \mathbb{Z} 的划分 π 。

根据题意, 在同一等价类的整数除以 n 的余数相等。

设除以 n 余数为 r ($r = 0, 1, \dots, n-1$)的整数构成的等价类为 $[r]$, 则

$$[r] = \{ kn+r | k \in \mathbb{Z} \}, r = 0, 1, \dots, n-1$$

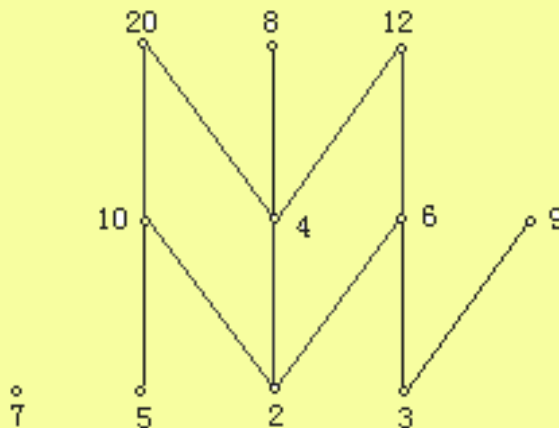
$$\pi = \{ [r] | r = 0, 1, \dots, n-1 \}$$

偏序的表示及特殊元素

设 $A=\{2,3,4,5,6,7,8,9,10,12,20\}$ ， R 为整除关系，求下列各题：

- ❖ (1) 画出偏序集 $\langle A, R \rangle$ 的哈斯图；
- ❖ (2) 求该偏序集的极大元和极小元。

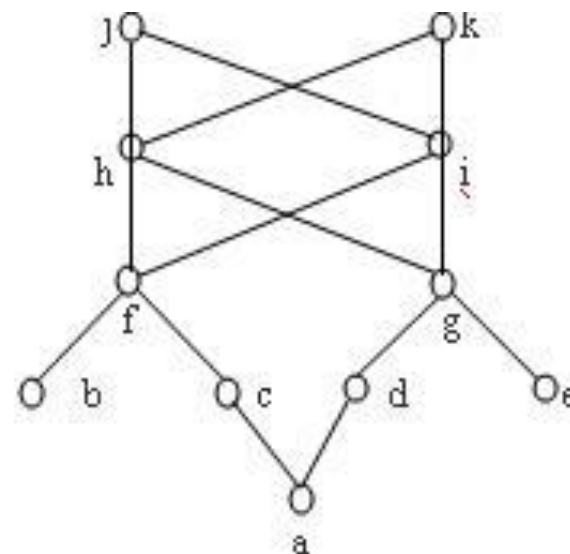
(1) 哈斯图如下：



(2) 极大元为7, 8, 9, 12, 20; 极小元为2, 3, 5, 7。

偏序的特殊元素

图中的哈斯图表示一偏序集。分别求集合 $B_1=\{h, i\}$ 、 $B_2=\{b, c, d, e\}$ 的上界、最小上界、下界和最大下界。



- (1) $B_1=\{h, i\}$, 它有上界 j, k , 但无最小上界; 它有下界 f, g, b, c, d, e, a , 但没有最大下界。
- (2) $B_2=\{b, c, d, e\}$, 它有上界 h, i, j, k , 无最小上界; 它没有下界和最大下界。

函数的概念

1. 若 $A=\{a,b\}$, $B=\{1,2\}$, 求 B^A

$\{\{ \langle a,1 \rangle, \langle b,1 \rangle \}, \{ \langle a,1 \rangle, \langle b,2 \rangle \}, \{ \langle a,2 \rangle, \langle b,1 \rangle \}, \{ \langle a,2 \rangle, \langle b,2 \rangle \}\}$

2. 用 ε 表示字母表 $\Sigma=\{a,b\}$ 上的空串, 定义 $f: \Sigma^* \rightarrow \Sigma^*$ 如下:

$x \in \Sigma^*$, $f(x)=axb$, 求 $f(\{\varepsilon,a,b\})$ 。

$\{ab, aab, abb\}$

函数的复合

$$X = \{1, 2, 3\}, Y = \{p, q\}, Z = \{a, b\}$$

$$f = \{ \langle 1, p \rangle, \langle 2, p \rangle, \langle 3, q \rangle \} \quad \text{求 } g \circ f$$

$$g = \{ \langle p, b \rangle, \langle q, b \rangle \}$$

$$g \circ f(1) = g(f(1)) = g(p) = b$$

$$g \circ f = \{ \langle 1, b \rangle, \langle 2, b \rangle, \langle 3, b \rangle \}$$